

## § 2 Méthodes de résolution de l'équation $f(x) = 0$

### ■ § 2.1 Méthode graphique

Nous verrons qu'un graphique ne constitue pas une méthode générale de résolution des équations. Cependant, un graphique peut nous apporter des informations utiles dont nous pourrions tirer parti.

Dans cette partie, il ne nous importe pas de savoir si les graphiques ont été réalisés à la main ou par ordinateur. Nous porterons plutôt notre attention sur les questions suivantes :

quel graphique faire ?

que nous dit le graphique au sujet des solutions de l'équation ?

#### ■ Exemple 1

Soit à résoudre l'équation

$$x^3 + 1 = 3x$$

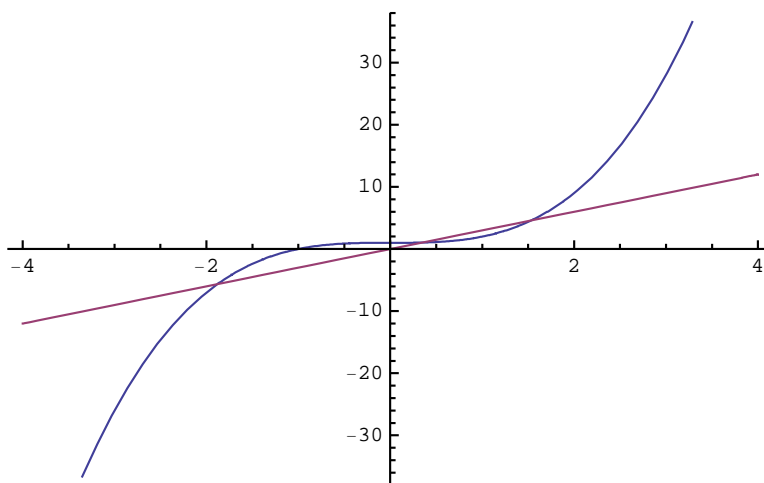
#### Premier point de vue

Considérons qu'il s'agit d'une équation de la forme  $g(x) = h(x)$

avec  $g(x) = x^3 + 1$  et  $h(x) = 3x$ .

Dessignons la situation.

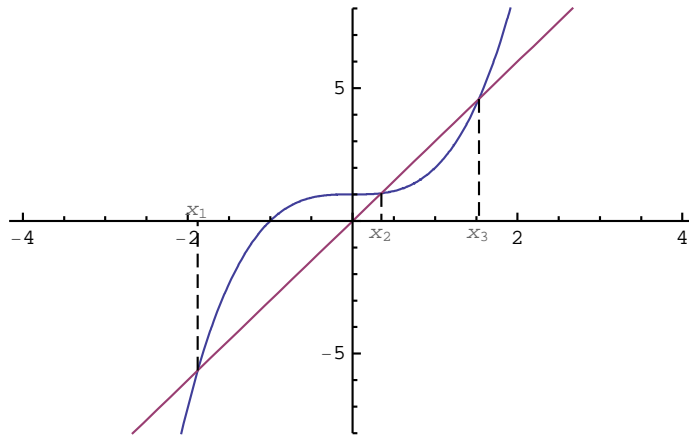
Plot [ { $x^3 + 1$ ,  $3x$ }, { $x$ , -4, 4} ]



Résoudre une équation signifie rechercher les abscisses des points d'intersection de deux courbes.

Les solutions sont à lire sur l'axe des x : on y voit trois solutions  $x_1, x_2, x_3$ .

Au lieu de dire "solutions", on dit aussi racines.



Un graphique peut montrer qu'une équation possède une ou plusieurs solutions et permet de les localiser approximativement.

### Deuxième point de vue

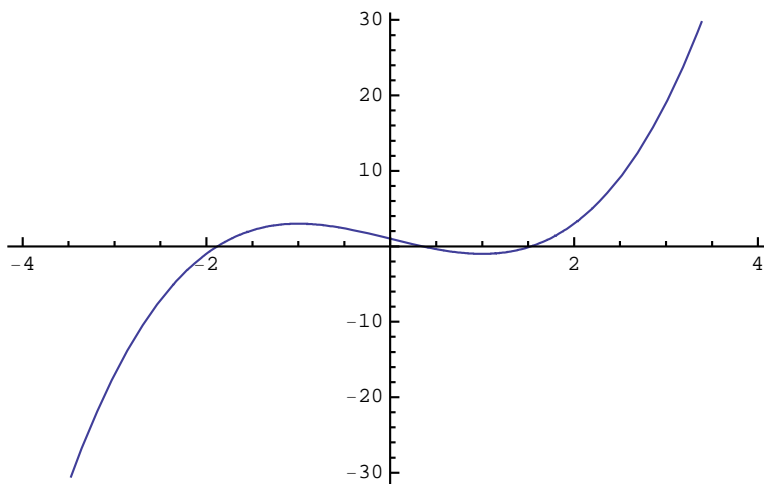
Passons tous les termes de l'équation dans le premier membre

$$x^3 - 3x + 1 = 0$$

L'équation prend la forme  $f(x) = 0$ .

Dessignons la situation.

```
Plot[x^3 - 3 x + 1, {x, -4, 4}]
```



Résoudre une équation signifie **rechercher les zéros d'une fonction**.

Les solutions sont situées à l'intersection de la courbe avec l'axe des abscisses. On y voit trois racines.

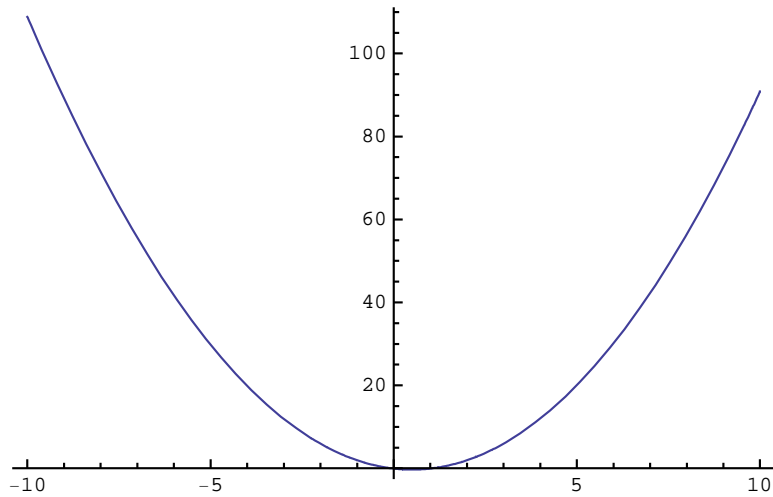
Dans la suite du cours, nous adopterons le plus souvent ce deuxième point de vue.

### ■ Exemple 2

Recherchons graphiquement les solutions de l'équation

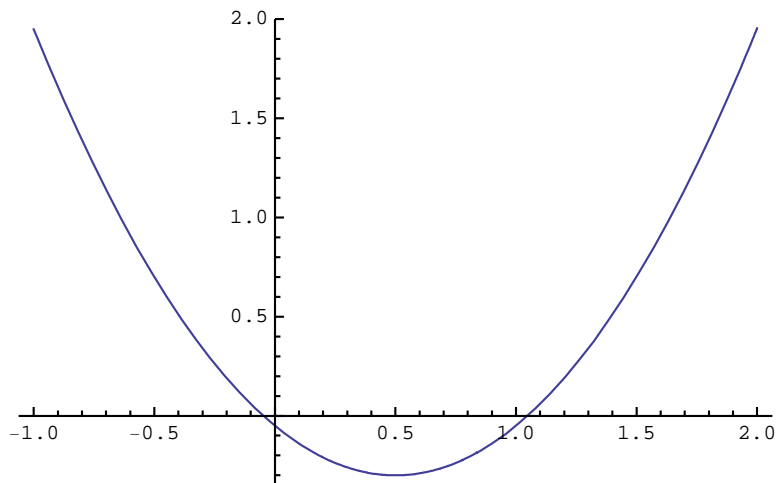
$$0.001 x^3 + 0.999 x^2 - x - 0.05 = 0$$

```
Plot[0.001` x^3 + 0.999` x^2 - x - 0.05`, {x, -10, 10}]
```



Au premier abord, il semblerait que l'équation possède une solution.  
Effectuons un zoom pour observer ce qui se passe au voisinage de 0.

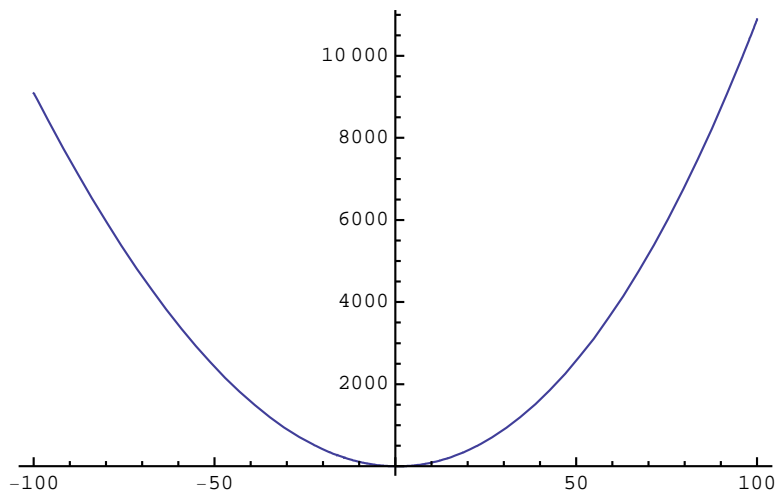
```
Plot[0.001` x^3 + 0.999` x^2 - x - 0.05`, {x, -1, 2}]
```



On voit maintenant que l'équation possède deux solutions distinctes  $x_1 \approx 0$  et  $x_2 \approx 1$ .

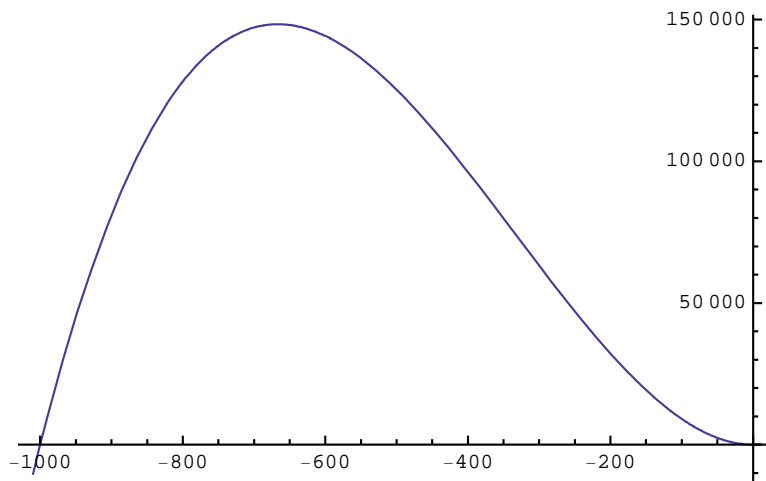
Pour savoir si l'équation possède d'autres racines, prenons un intervalle plus large

```
Plot[0.001` x^3 + 0.999` x^2 - x - 0.05`, {x, -100, 100}]
```



A ce stade, on peut être tenté de conclure que l'équation possède exactement deux solutions.  
Or, c'est faux. L'équation possède une troisième racine  $x_3 \approx -1000$

```
Plot[0.001` x^3 + 0.999` x^2 - x - 0.05`, {x, -1010, 10}]
```



Nous savons qu'il n'y a pas de quatrième solution. Ce n'est pas un graphique qui peut nous le dire mais **un raisonnement** : l'équation est polynomiale du troisième degré.

**Un graphique peut montrer l'existence de solutions mais il ne permet pas, en général, de déterminer le nombre de solutions.**

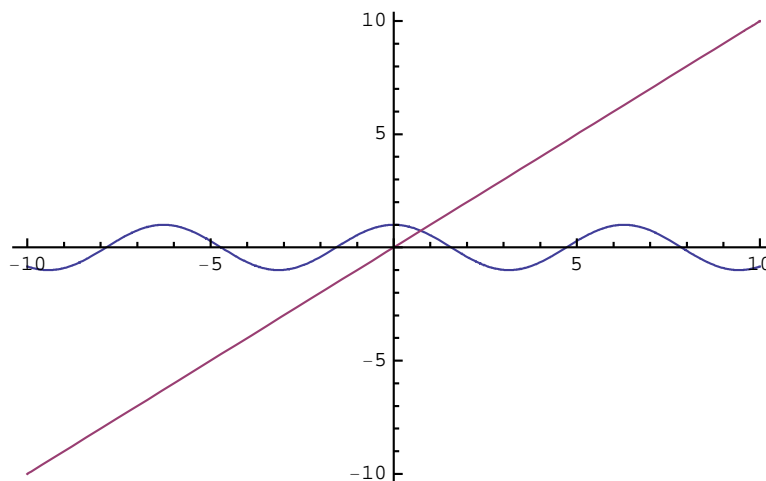
### ■ Exemple 3

Il existe cependant des cas particuliers où un graphique permet de déterminer le nombre de solutions. Mais il faut alors impérativement savoir comment le graphique continue dans le plan au-delà de la partie dessinée, jusqu'à l'infini.

Pour  $x$  exprimé en radians, considérons l'équation

$$\cos(x) = x$$

```
Plot[{Cos[x], x}, {x, -10, 10}]
```



Etant donné qu'une fonction est linéaire et que l'autre est périodique, nous pouvons aisément nous représenter comment les deux courbes se poursuivent au-delà de la partie dessinée, jusqu'à l'infini.

Dans ce cas, nous pouvons nous convaincre que l'équation possède une et une seule solution.

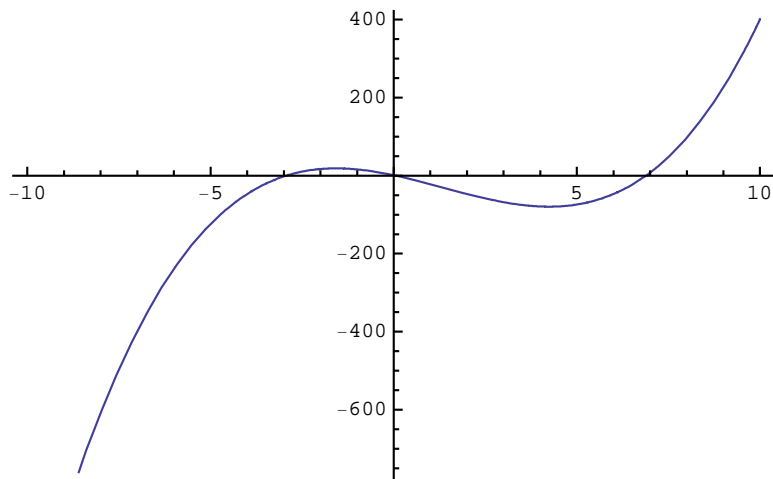
Plus généralement, c'est une **étude de fonction** qu'il faudrait faire.

### ■ Exemple 4 et définitions

Considérons l'équation

$$x^3 - 4x^2 - 20x + 1 = 0$$

Plot [ $x^3 - 4x^2 - 20x + 1$ , { $x$ , -10, 10}]



De chaque solution de l'équation, on peut donner une approximation numérique :

$$x_1 \approx -2.9, \quad x_2 \approx 0, \quad x_3 \approx 7.$$

On peut également encadrer chaque solution :

$$-5 < x_1 < 0, \quad -2 < x_2 < 2, \quad 5 < x_3 < 10.$$

Par contre  $5 < x_3 < \infty$  n'est pas un encadrement de  $x_3$  car

**encadrer une racine signifie donner un intervalle**

- 1° fini,
- 2° inclus dans l'ensemble de définition de la fonction et
- 3° contenant au moins une racine.

L'encadrement des racines

$$x_1 \in ]-5; 0[, \quad x_2 \in ]-2; 2[, \quad x_3 \in ]5; 10[$$

ne sépare pas les racines car les intervalles  $] -5; 0[$  et  $] -2; 2[$  ne sont pas disjoints.

**Séparer les racines signifie encadrer chaque racine de telle sorte que chaque intervalle contienne une et une seule solution.**

Par exemple,

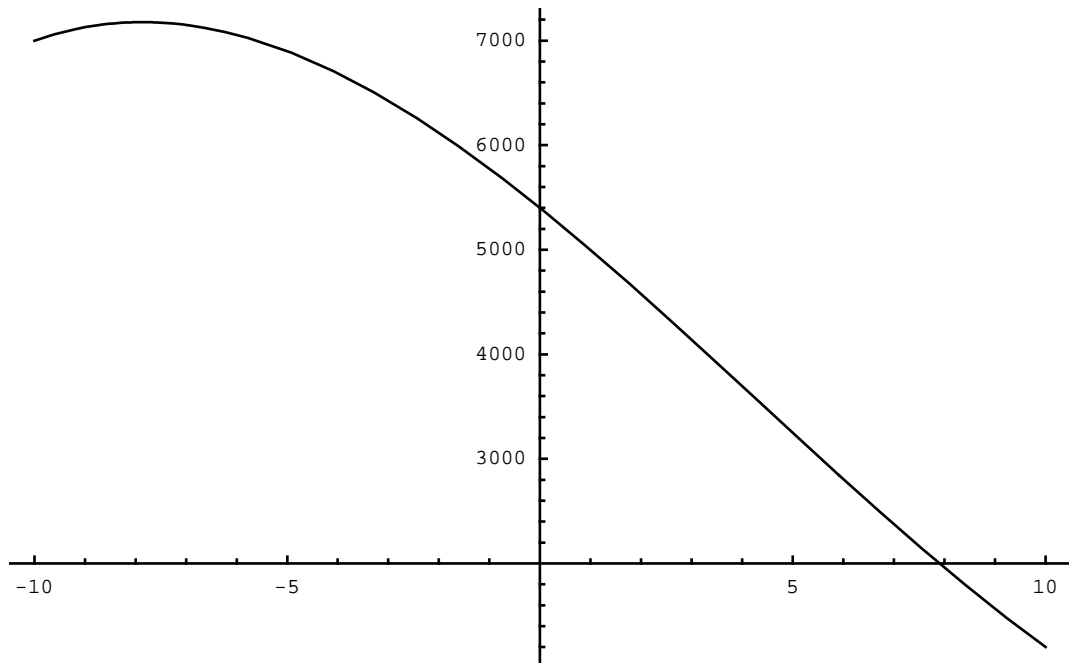
$$x_1 \in ]-4; -2[, \quad x_2 \in ]-1; 1[, \quad x_3 \in ]6; 8[$$

### ■ Exemple 5

Considérons l'équation

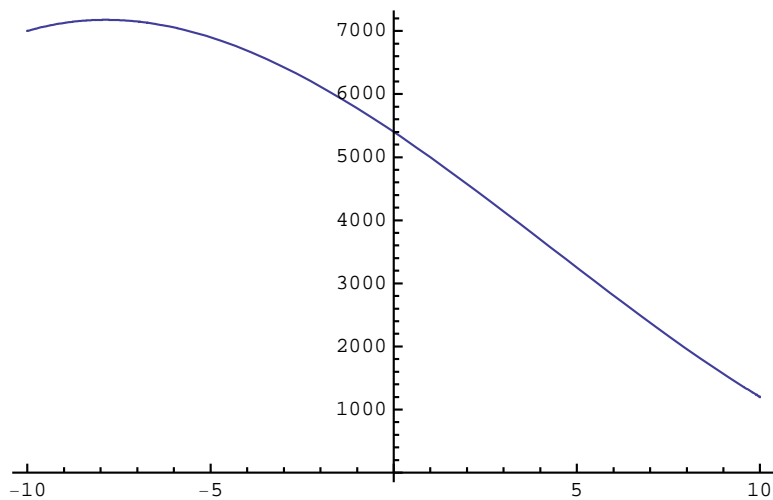
$$5400 - 390x - 13x^2 + x^3 = 0$$

```
Plot[5400 - 390 x - 13 x^2 + x^3, {x, -10, 10}]
```



On pourrait être tenté de dire que l'équation possède une solution  $x_1 \approx 8$ . Remarquez cependant que l'axe horizontal n'a pas été dessiné à la hauteur  $y = 0$ . Pour prévenir cette erreur d'inattention, il est prudent d'inclure la directive suivante

```
Plot[5400 - 390 x - 13 x^2 + x^3, {x, -10, 10}, AxesOrigin -> {Automatic, 0}]
```



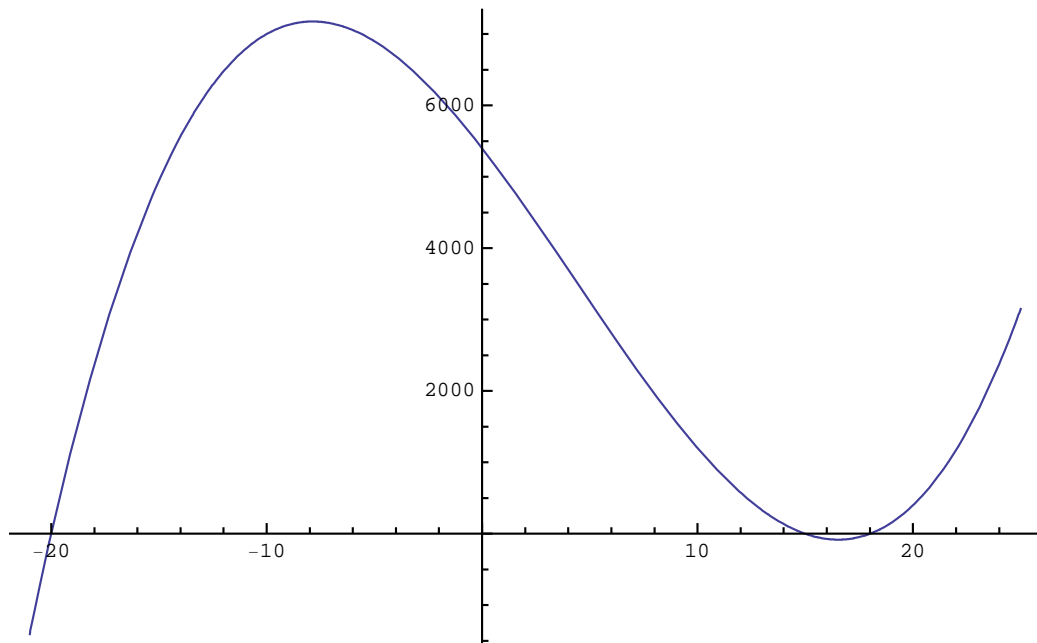
Pour éviter d'avoir à insérer cette option dans chaque commande **Plot**, on peut déclarer cette option active jusqu'à la fin de la session en cours, c'est-à-dire jusqu'à ce que l'on quitte le *Noyau*.

```
SetOptions[Plot, AxesOrigin → {Automatic, 0}, ImageSize → {500, 300}]
```

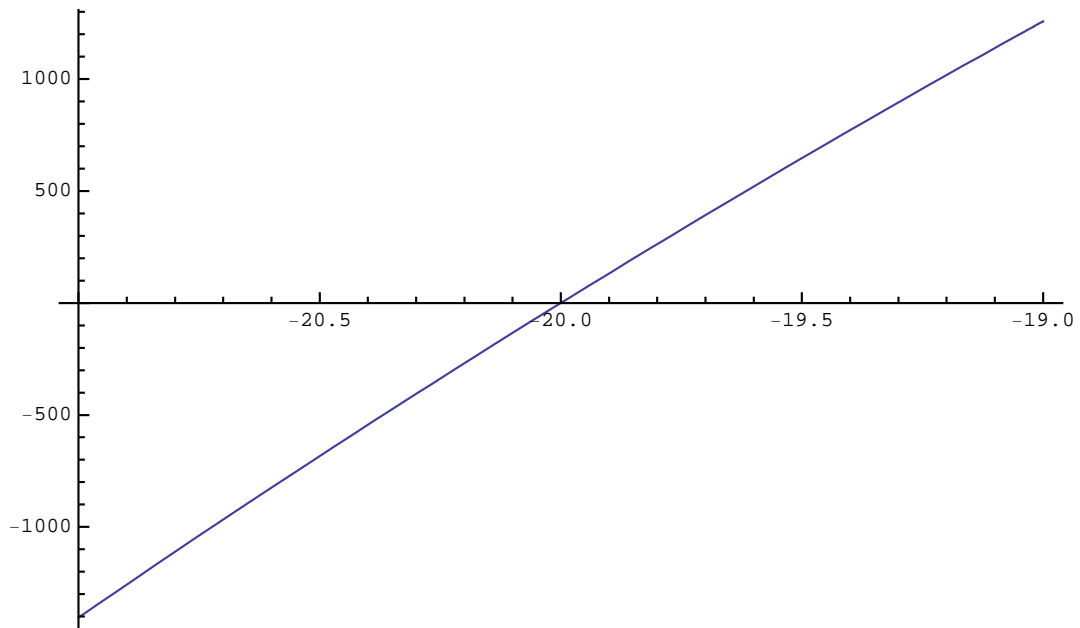
```
{AlignmentPoint → Center, AspectRatio →  $\frac{1}{\text{GoldenRatio}}$ , Axes → True,
  AxesLabel → None, AxesOrigin → {Automatic, 0}, AxesStyle → {}, Background → None,
  BaselinePosition → Automatic, BaseStyle → {}, ClippingStyle → None,
  ColorFunction → Automatic, ColorFunctionScaling → True, ColorOutput → Automatic,
  ContentSelectable → Automatic, CoordinatesToolOptions → Automatic,
  DisplayFunction → $DisplayFunction, Epilog → {}, Evaluated → Automatic,
  EvaluationMonitor → None, Exclusions → Automatic, ExclusionsStyle → None,
  Filling → None, FillingStyle → Automatic, FormatType → TraditionalForm,
  Frame → False, FrameLabel → None, FrameStyle → {}, FrameTicks → Automatic,
  FrameTicksStyle → {}, GridLines → None, GridLinesStyle → {},
  ImageMargins → 0., ImagePadding → All, ImageSize → {500, 300},
  ImageSizeRaw → Automatic, LabelStyle → {}, MaxRecursion → Automatic,
  Mesh → None, MeshFunctions → {#1 &}, MeshShading → None, MeshStyle → Automatic,
  Method → Automatic, PerformanceGoal → $PerformanceGoal,
  PlotLabel → None, PlotPoints → Automatic, PlotRange → {Full, Automatic},
  PlotRangeClipping → True, PlotRangePadding → Automatic, PlotRegion → Automatic,
  PlotStyle → Automatic, PreserveImageOptions → Automatic, Prolog → {},
  RegionFunction → (True &), RotateLabel → True, Ticks → Automatic,
  TicksStyle → {}, WorkingPrecision → MachinePrecision}
```

On peut maintenant partir à la recherche des zéros avec moins de risque d'erreur dans la lecture des graphiques.

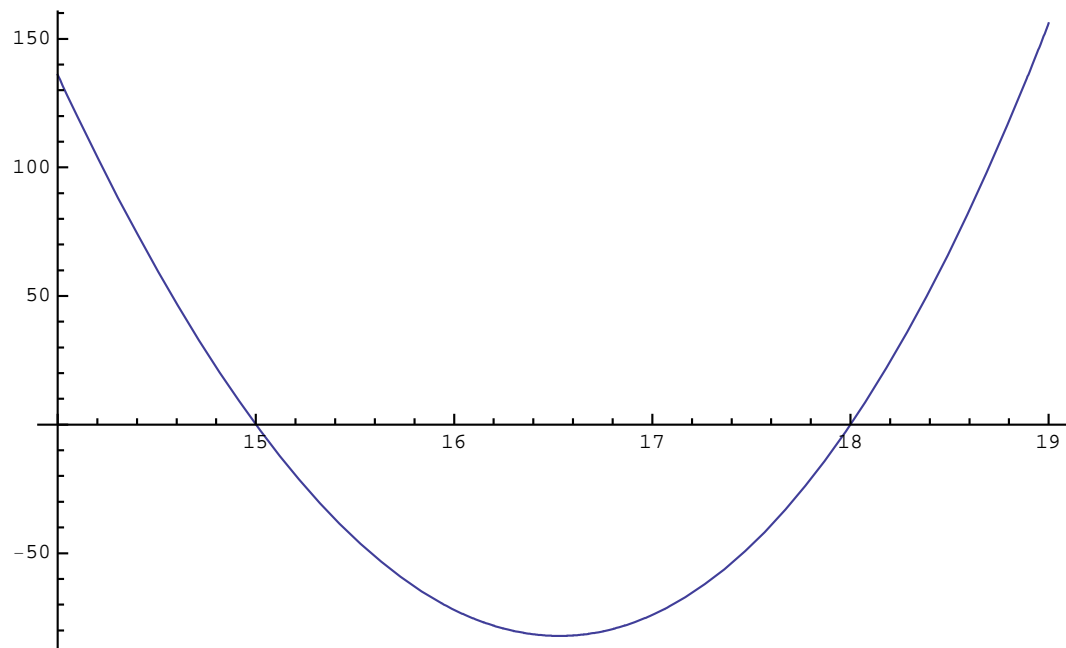
```
Plot[5400 - 390 x - 13 x2 + x3, {x, -21, 25}]
```



Plot [5400 - 390 x - 13 x<sup>2</sup> + x<sup>3</sup>, {x, -21, -19}]



Plot [5400 - 390 x - 13 x<sup>2</sup> + x<sup>3</sup>, {x, 14, 19}]



### ■ Exercice 2-1- P 1

Dans le problème 1-1, pour  $A = 100$  et  $h = 10$ , déterminez graphiquement la valeur de  $r$ . Encadrez chaque solution entre deux entiers. Séparez les solutions obtenues (si nécessaire). Dites si vous avez obtenu l'ensemble des solutions.

### ■ Exercice 2-1-P 2

Dans le problème 1-2, pour  $A = 80$  et  $p = 5$ , déterminez graphiquement la valeur de  $q$ . Encadrez chaque solution entre deux entiers. Séparez les solutions obtenues (si nécessaire). Dites si vous avez obtenu l'ensemble des solutions.

### ■ Exercice 2-1-P 3

Dans le problème 1-3, pour  $r = 50$ ,  $\rho_0 = 1000$  et  $\rho_1 = 900$ , déterminez graphiquement la valeur de  $h$ .

Encadrez chaque solution entre deux entiers. Séparez les solutions obtenues (si nécessaire).  
Dites si vous avez obtenu l'ensemble des solutions.

■ **Exercice 2-1-P 4**

Dans le problème 1-4, pour  $t = 30\%$ , déterminez graphiquement la valeur de l'angle  $\alpha$ .

Encadrez chaque solution entre deux nombres arrondis au  $\frac{1}{10}$  de radian. Séparez les solutions obtenues (si nécessaire).  
Dites si vous avez obtenu l'ensemble des solutions.

■ **Exercice 2-1-P 5**

Dans le problème 1-5, pour  $c = 10 \times 000$ ,  $n = 8$ ,  $a = 2 \times 000$ , déterminez graphiquement la valeur du taux  $i$ .  
Encadrez chaque solution entre deux nombres entiers de %. Séparez les solutions obtenues (si nécessaire).  
Dites si vous avez obtenu l'ensemble des solutions.

## ■ § 2.2 Méthode de la bisection

### ■ Etymologie

Bisection signifie "couper en deux".

### ■ Exemple 1

Pour décrire la méthode de la bisection, prenons comme exemple l'équation

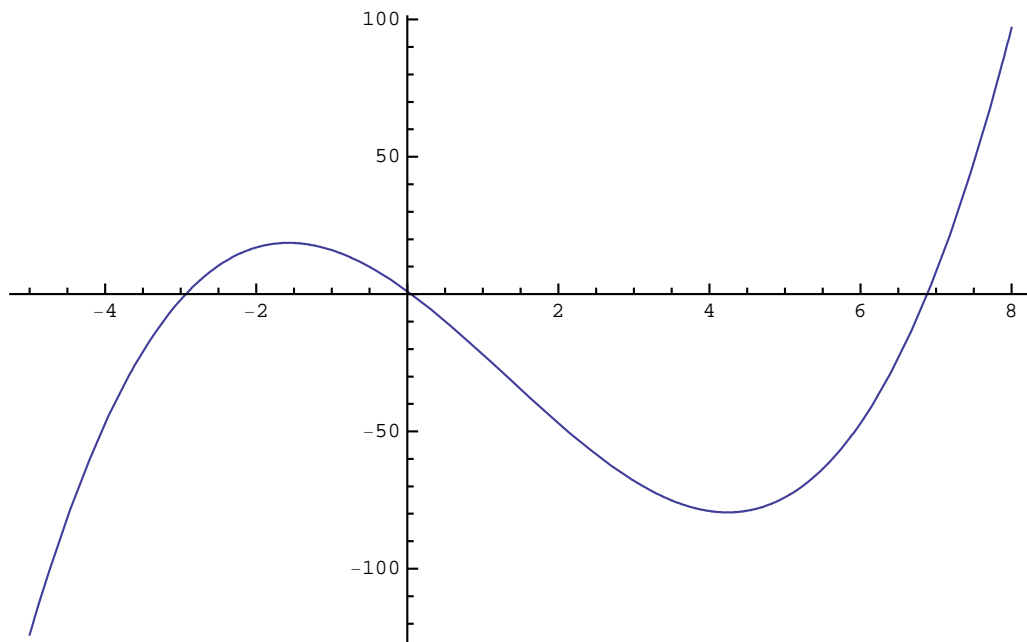
$$x^3 - 4x^2 - 20x + 1 = 0$$

#### Etape 1 : encadrement et séparation des racines

```
Clear[f, x]; f[x_] := x^3 - 4 x^2 - 20 x + 1
```

Nous avons vu, dans le § 2-1, comment on peut encadrer les racines par une méthode graphique.

```
Plot[f[x], {x, -5, 8}, AxesOrigin -> {Automatic, 0}]
```



Si on ne dispose pas de l'ordinateur pour faire des graphiques, il existe une méthode plus économique pour encadrer les racines : c'est de **repérer les intervalles sur lesquels la fonction change de signe**. Effectuons une première tabulation

```
Get::noopen : Cannot open Tableaux`. >>
```

```
afficheTableau[{x, Sign(f(x))}, None,
  {{-8, -7, -6, -5, -4, -3, -2, -1, 0, 1, 2, 3, 4, 5, 6, 7, 8, 9},
  {-1, -1, -1, -1, -1, -1, 1, 1, 1, -1, -1, -1, -1, -1, -1, 1, 1}}]
```

De cette table, sachant que la fonction est continue, nous pouvons déduire les encadrements

$$x_1 \in ] - 3; - 2[, \quad x_2 \in ] 0; 1[, \quad x_3 \in ] 6; 7[$$

#### Etape 2-1 : bisection pour $x_1$

Il faut commencer par fixer la précision à laquelle nous voulons parvenir. Dans notre exemple, choisissons une précision de  $\pm 0.001$

Rappelons-nous que la fonction  $f$  est négative à gauche de l'intervalle et positive à droite :

```
{Sign[f[-3]], Sign[f[-2]]}
```

```
{-1, 1}
```

Calculons le signe de la fonction au milieu de l'intervalle :

```
Sign[f[-2.5]]
```

```
1
```

La fonction change de signe entre -3 et -2.5. Nous en déduisons un nouvel encadrement :  $x_1 \in ] - 3 ; - 2.5 [$

Recommençons l'opération. Calculons le signe de la fonction au milieu du nouvel intervalle:

```
Sign[f[-2.75]]
```

```
1
```

La fonction change de signe entre -3 et -2.75. Nous en déduisons un nouvel encadrement :  $x_1 \in ] - 3 ; - 2.75 [$

Poursuivons les calculs et présentons la suite des encadrements successifs dans un tableau :

```
bissection[f, {-3, -2}, 5]
```

Si  $\text{sign}(f(\frac{a+b}{2})) = -1$ , alors  $\frac{a+b}{2}$  se place dans la colonne de gauche  $a$ , sinon il se place dans la colonne de droite  $b$ .

Lorsqu'on fait les calculs à la main, on observe un phénomène désagréable : le nombre de chiffres après la virgule augmente. Etant donné qu'on désire un résultat à la précision d'un millième, nous pouvons arrondir les résultats à trois chiffres après le point décimal. La méthode de la bisection est itérée jusqu'à l'obtention de la précision souhaitée. Dans notre exemple, on y parvient en 9 étapes.

```
bissection[f, {-3, -2}, 9, 0.001]
```

```
Réponse :  $x_1 = -2.933 \pm 0.001$ 
```

En 9 itérations, la longueur de l'intervalle est passée de 1 à 0.002, c'est-à-dire a été divisée par 500. A chaque itération, la longueur de l'intervalle a été divisée par 2. En 9 itérations, elle a été divisée par  $2^9 = 512$  (arrondi à 500).

### Etape 2-2 : bisection pour $x_2$

Rappelons-nous que la fonction  $f$  est positive à gauche de l'intervalle et négative à droite :

```
{Sign[f[0]], Sign[f[1]]}
```

```
{1, -1}
```

Calculons le signe de la fonction au milieu de l'intervalle :

```
Sign[f[0.5]]
```

```
-1
```

La fonction change de signe entre 0 et 0.5. Nous en déduisons un nouvel encadrement :  $x_2 \in ] 0 ; 0.5 [$

Recommençons l'opération. Calculons le signe de la fonction au milieu du nouvel intervalle:

```
Sign[f[0.25]]
```

```
-1
```

La fonction change de signe entre 0 et 0.25. Nous en déduisons un nouvel encadrement :  $x_2 \in ] 0 ; 0.25 [$

Poursuivons les calculs et présentons la suite des approximations successives dans un tableau :

```
bissection[f, {0, 1}, 9, 0.001]
```

Réponse :  $x_2 = 0.049 \pm 0.001$

Si  $\text{sign}(f(\frac{a+b}{2})) = +1$ , alors  $\frac{a+b}{2}$  se place dans la colonne de gauche  $a$ , sinon il se place dans la colonne de droite  $b$ .

### Etape 2-3 : bisection pour $x_3$

Rappelons-nous que la fonction  $f$  est négative à gauche de l'intervalle et positive à droite :

```
{Sign[f[6]], Sign[f[7]]}
```

```
{-1, 1}
```

Calculons le signe de la fonction au milieu de l'intervalle :

```
Sign[f[6.5]]
```

```
-1
```

La fonction change de signe entre 6.5 et 7. Nous en déduisons un nouvel encadrement :  $x_3 \in ] 6.5 ; 7 [$

Recommençons l'opération. Calculons le signe de la fonction au milieu du nouvel intervalle:

```
Sign[f[6.75]]
```

```
-1
```

La fonction change de signe entre 6.75 et 7. Nous en déduisons un nouvel encadrement :  $x_3 \in ] 6.75 ; 7 [$

Poursuivons les calculs et présentons la suite des encadrements successifs dans un tableau :

```
bissection[f, {6, 7}, 9, 0.001]
```

Réponse :  $x_3 = 6.885 \pm 0.001$

Si  $\text{sign}(f(\frac{a+b}{2})) = -1$ , alors  $\frac{a+b}{2}$  se place dans la colonne de gauche  $a$ , sinon il se place dans la colonne de droite  $b$ .

Comparez les calculs de  $x_1$ ,  $x_2$  et  $x_3$  et déterminez une règle unique pour savoir dans quelle colonne de la ligne suivante se place  $\frac{a+b}{2}$ . La règle doit recouvrir les deux cas :

\* passage de -1 à +1 (pour  $x_1$  et  $x_3$ );

\* passage de +1 à -1 (pour  $x_2$ ).

### ■ Erreur sur le résultat

La dernière réponse fournie par la méthode de la bisection est de la forme

$$x \in [a; b]$$

On écrit alors la réponse finale sous la forme

$$x = \frac{a+b}{2} \pm \frac{b-a}{2}$$

en arrondissant ensuite les valeurs numériques.

### ■ Critère d'arrêt

Au départ, on se donne une précision  $\Delta x$  et on poursuit les calculs jusqu'à ce que cette précision soit atteinte:

$$\frac{b - a}{2} \leq \Delta x$$

Si la largeur du dernier intervalle obtenu avec la méthode de la bisection est inférieure au double de la précision désirée

$$(b - a) \leq 2 \Delta x$$

on peut arrêter les calculs et écrire la réponse finale, sinon il faut effectuer un pas supplémentaire.

### ■ Avantages et inconvénients de la méthode de la bisection

Par rapport à d'autres méthodes, la bisection présente les avantages suivants :

1. La méthode de la bisection ne nécessite que peu d'hypothèses sur la fonction  $f$ .  
Il suffit que la fonction  $f$  soit continue.
2. La méthode de la bisection est sûre : la convergence est garantie.
3. La méthode donne également une borne de l'erreur : sachant que la solution  $x$  appartient à l'intervalle  $[a, b]$ , alors  $\frac{a+b}{2}$  est une approximation de  $x$  à la précision  $\pm \frac{b-a}{2}$ .

Par contre, la méthode de la bisection présente les inconvénients suivants :

1. La méthode est lente. Pour atteindre une précision relative de l'ordre de  $10^{-9}$ , il est couramment nécessaire d'effectuer environ 30 itérations.  
Il existe d'autres méthodes plus efficaces, c'est-à-dire permettant d'atteindre la même précision en exigeant moins de calculs.
2. Il n'existe pas de méthode basée sur la bisection qui soit pratiquement utilisable pour résoudre des systèmes d'équations. C'est pourquoi il est utile de connaître aussi d'autres méthodes qui, plus tard, pourront s'adapter à la résolution de systèmes d'équations.  
Prochainement, nous étudierons encore la méthode de la sécante et la méthode du point fixe.  
Plus tard, nous étudierons encore la méthode de Newton.

### ■ Exercice 2-2-1

Au moyen de la méthode de la bisection, résolvez numériquement l'équation

$$2^x = 10$$

à la précision de  $\pm 0.001$

Pour les calculs, utilisez l'accessoire **Calculatrice** (sélectionnez "Affichage scientifique")

et dressez le tableau des approximations successives à la main.

### ■ Exercice 2-2-P 2

Avec les données  $A = 1000$ ,  $p = 20$ , résolvez numériquement le problème 1-P 2.

Au moyen de la méthode de la bisection, calculez la valeur numérique de  $q$  à la précision de  $\pm 0.02$

Dressez le tableau des approximations successives à la main.

Utilisez *Mathematica* comme calculatrice. Calculez ensuite  $a$ ,  $b$ ,  $c$ .

### ■ Exercice 2-2-P 5

Avec les données  $c = 8200$ ,  $n = 6$ ,  $a = 2000$ , résolvez numériquement le problème 1-P 5.

Au moyen de la méthode de la bisection, calculez la valeur numérique du taux à la précision de  $\pm 0.1 \%$ .

Dressez le tableau des approximations successives à la main. Utilisez *Mathematica* comme calculatrice.

---

Indication: en Suisse, le taux est plafonné par la loi à 18 %.